

الجمهورية الجزائرية الديمقراطية الشعبية

وزارة التربية الوطنية

مديرية التربية لولاية تلمسان

مديرية التكوين

السنة التكوينية: 2021-2022

مركز التكوين: ثانوية أحمد بن زكري

مصلحة التكوين والتفتيش





اختبار نهاية التكوين 2021-2022

المدة: 90 دقيقة

المقياس: تكنولوجيات الإعلام والاتصال

الوضعية الأولى (06 ن): سم (ي) مكونات الحاسوب التالية بإحدى اللغات (العربية/الفرنسية/الإنجليزية) وأذكر دور كل

منها باختصار.

المكون 2	المكون 1
	
المكون 4	المكون 3
	

الوضعية الثانية (04): إذا علمت أن:

▪ سعة القرص المضغوط (CD) هي 700MB

▪ سعة القرص متعدد الاستخدامات (DVD) هي 4,7GB

فما هو عدد الأقراص المضغوطة التي يمكن تعويضها بـ DVD واحد؟

يرجى كتابة العمليات والجواب باختصار ووضوح.

الوضعية الثالثة (04 ن): إليك جزء من كشف النقاط لأحد التلاميذ. النقاط التي حصل عليها ليست ضرورية للإجابة على الأسئلة.

I	H	G	F	E	D	C	B	A	
الملاحظة	مجموع المادة	المعامل	المعدل	الاختبار	التقييم المستمر	الفرض	التقييم	المواد	1
								اللغة العربية	2

أكتب (ي) صيغ المجدول كما هو مبين في المثال:

صيغة المجدول (Excel)	طريقة الحساب
=B2+C2	التقييم المستمر = التقييم + الفرض
.....	المعدل = (التقييم المستمر + الاختبار X 3) / 5
.....	مجموع المادة = المعدل X المعامل

الوضعية الإدماجية (06 ن):

السند: صورة ملقطة من الشاشة للتبويبات التي يحتوي عليها معالج النصوص.

FICHIER	ACCUEIL	INSERTION	CRÉATION	MISE EN PAGE	RÉFÉRENCES	PUBLIPOSTAGE	RÉVISION	AFFICHAGE
---------	---------	-----------	----------	--------------	------------	--------------	----------	-----------

السياق: قرّرت إدارة المؤسسة أن تبعث رسالة إلى كل أولياء التلاميذ وأن تحتوي كل رسالة على اسم ولقب الولي.

التعليمة: اشرح (ي) باختصار وبوضوح المراحل التي لا بد من اتباعها لكتابة الرسائل.